




Kolik myška nasbírala klásků?

Hod' si kostkou a dokresli do prázdných políček na každém řádku klásky podle počtu teček.

Čím dalším se myšky živí?



						
--	--	--	--	--	--	--

--	--	--	--	--	--	--

--	--	--	--	--	--	--

--	--	--	--	--	--	--